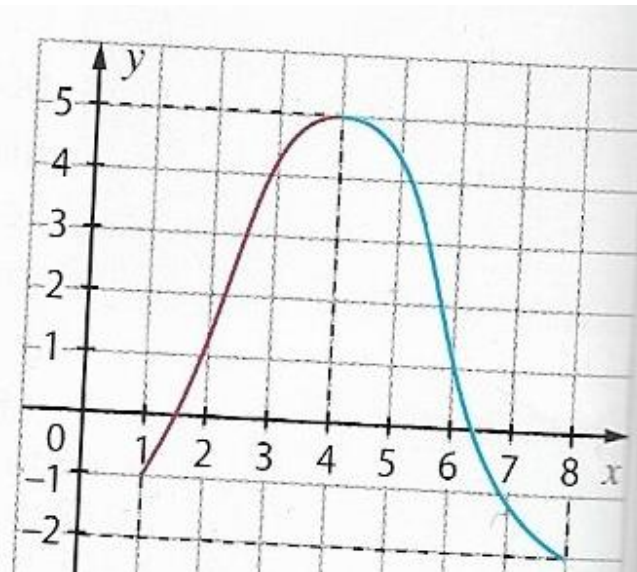


**Chapitre 9****Sens de variation de fonctions****I – Sens de variation d'une fonction et tableau de variation**

La courbe  $C_f$  ci-dessous représente une fonction  $f$  définie sur l'intervalle  $[1 ; 8]$ .



On observe que lorsque les valeurs prises par  $x$  augmentent en restant dans l'intervalle  $[1 ; 4]$ , les valeurs  $f(x)$  augmentent également : ceci se traduit graphiquement par une courbe "ascendante" sur l'intervalle  $[1 ; 4]$ .

A contrario, lorsque les valeurs de  $x$  augmentent en restant dans l'intervalle  $[4 ; 8]$ , les valeurs prises par  $f$ , c'est-à-dire les valeurs  $f(x)$  diminuent : ceci se traduit graphiquement par une portion de courbe "descendante" sur l'intervalle  $[4 ; 8]$ .

Nous allons rigoureusement définir ces phénomènes de courbes ascendantes, respectivement courbes descendantes.

**Définition fondamentale**

Soit  $f$  une fonction définie sur un ensemble  $D_f$  et  $I$  un intervalle contenu dans  $D_f$

1)  $f$  est dite croissante sur  $I$  si lorsque  $x$  augmente en appartenant à  $I$ , alors  $f(x)$  augmente.

**Ceci se traduit rigoureusement par :**

♥♥  $f$  est croissante sur  $I$  lorsque :

**Pour tous réels  $a$  et  $b$  appartenant à  $I$ , si  $a \leq b$ , alors  $f(a) \leq f(b)$ .** ♥♥

En des termes plus savants, les nombres  $f(a)$  et  $f(b)$  sont rangés dans le même ordre que celui des nombres  $a$  et  $b$  : une **fonction croissante** sur un intervalle **conserve donc l'ordre dans les inégalités** : antécédents et images sont rangés dans le même ordre lorsqu'on a une fonction croissante sur un intervalle !

**Illustration :**

✂-----

2)  $f$  est dite décroissante sur  $I$  si lorsque  $x$  augmente en appartenant à  $I$ , alors  $f(x)$  diminue.

Ceci se traduit rigoureusement par :

♥♥  $f$  est décroissante sur  $I$  lorsque :

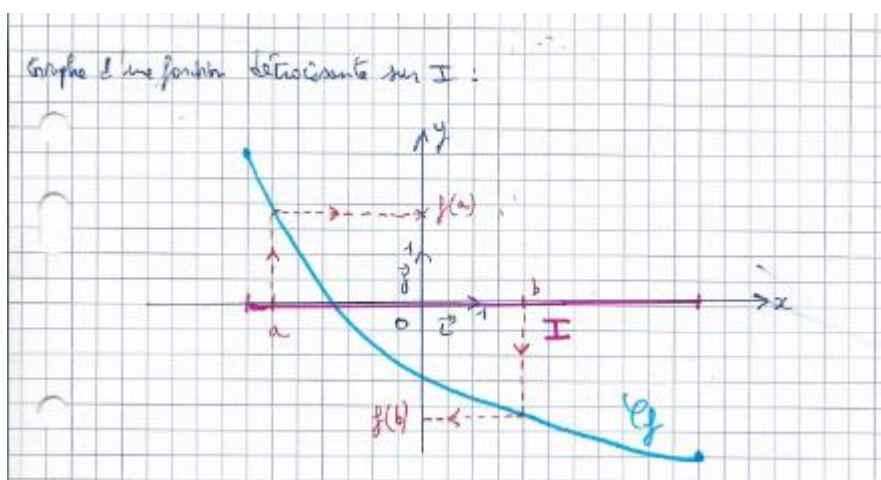
Pour tous réels  $a$  et  $b$  appartenant à  $I$ , si  $a \leq b$ , alors  $f(a) \geq f(b)$ . ♥♥

En des termes plus savants, les nombres  $f(a)$  et  $f(b)$  sont rangés dans l'ordre contraire de celui des nombres  $a$  et  $b$ .

☞☞ Une **fonction décroissante** sur un intervalle **change donc l'ordre dans les inégalités** ☞☞ :

Antécédents et images sont rangés dans l'ordre contraire lorsqu'on a une fonction décroissante sur un intervalle !

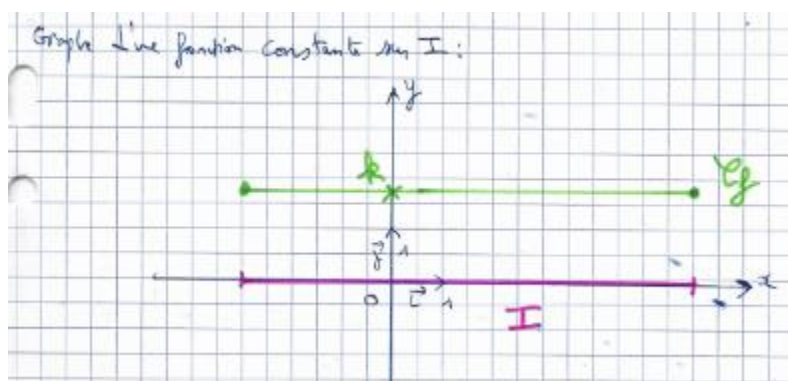
Illustration :



Définition

Une fonction  $f$  est dite constante sur un intervalle  $I$  si les valeurs prises par  $f$  ont toutes la même valeur sur  $I$ , c'est-à-dire s'il existe un réel  $k$ , tel que pour tout réel  $x$  appartenant à l'intervalle  $I$ , on ait :  $f(x) = k$ .

Illustration :



Dans le cas d'une fonction constante sur un intervalle  $I$ ,  $C_f$  est donc une portion de droite parallèle à l'axe des abscisses !

Définition

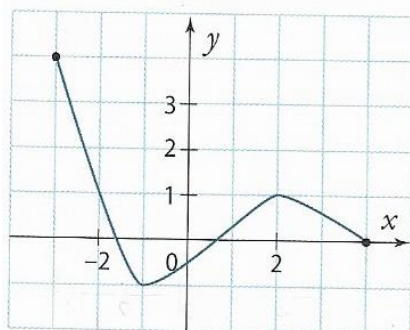
$f$  est dite monotone sur l'intervalle  $I$  si  $f$  est soit croissante sur  $I$  soit décroissante sur  $I$ , c'est-à-dire si elle garde le même sens de variation sur tout l'intervalle  $I$ .

Définition

**Etudier le sens de variation** d'une fonction  $f$ , c'est **déterminer les intervalles sur lesquels  $f$  croît et ceux sur lesquels  $f$  décroît.**

Exemple :

$f$  est une fonction définie sur  $[-3 ; 4]$  dont voici la courbe ci-dessous.



Avec des phrases, décrivons le sens de variation de  $f$  sur  $[-3 ; 4]$  :

-  
-  
-

On résume cette étude en construisant un tableau, nommé **tableau de variation** de la fonction  $f$  :

La première ligne du tableau contient les bornes de l'ensemble de définition de  $f$  et les éventuelles valeurs de  $x$  en lesquelles le sens de variation de  $f$  change.

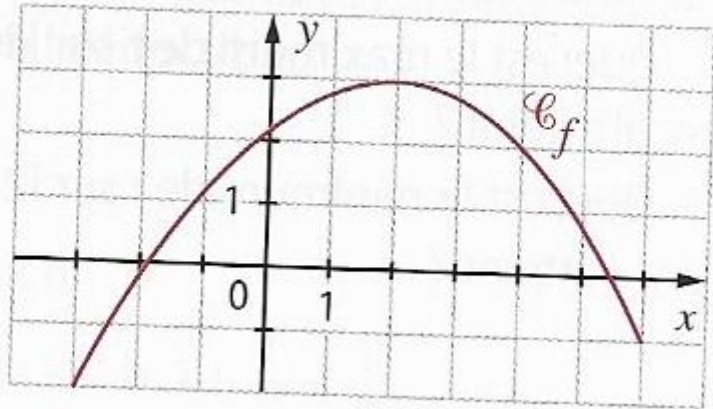
La seconde ligne contient des flèches qui matérialisent le sens de variation de  $f$ , avec la convention suivante : une **flèche ascendante** sur un intervalle correspond à une **fonction croissante** sur ce même intervalle, et qu'une **flèche descendante** sur un intervalle correspond à une **fonction décroissante** sur ce dernier.

On met aussi, lorsque c'est possible, les images par  $f$  des valeurs mises dans la première ligne du tableau.

**Exercice 1**

1)

$f$  est la fonction définie sur l'intervalle  $[-3 ; 6]$  par sa courbe représentative  $\mathcal{C}_f$  donnée ci-contre. Dresser le tableau de variation de  $f$ .

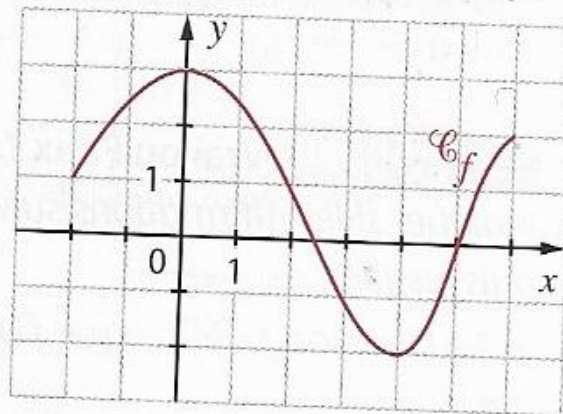


✂

2)

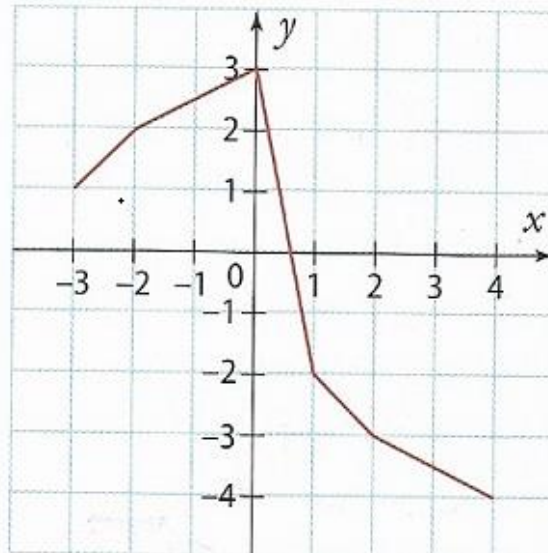
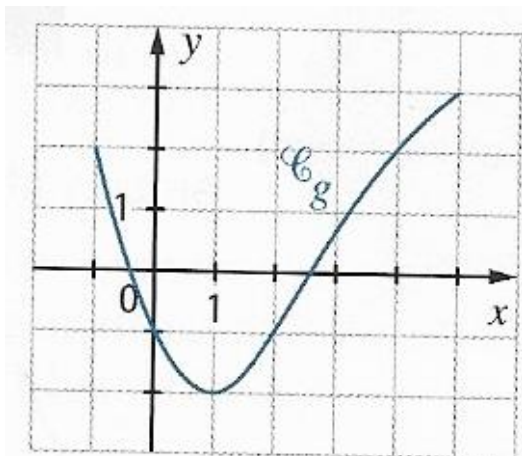
On donne ci-contre la courbe représentative d'une fonction  $f$ .

1. Décrire par des phrases les variations de  $f$ .
2. Construire le tableau de variation de  $f$ .



✂

3) Dresser le tableau de variation des fonctions  $g$  et  $h$  sur leur ensemble de définition dont on donne les courbes représentatives  $\mathcal{C}_g$  et  $\mathcal{C}_h$  ci-dessous :



**Exercice 2**

On donne le tableau de variation d'une fonction  $f$ .

$x$	-5	0	1	2
$f(x)$	2	5	-4	-1

Arrows in the original image indicate: 2 → 5, 5 → -4, -4 → -1.

Tracer une courbe pouvant représenter la fonction  $f$ .

✂-----

**Exercice 3**

$f$  est une fonction définie sur l'intervalle  $[1 ; 6]$ .

1. La proposition suivante est-elle vraie ?  
« Si  $f(1) \geq f(6)$ , alors  $f$  est décroissante sur  $[1 ; 6]$ . »
2. La réciproque de cette proposition est-elle vraie ?

✂-----

**Exercice 4**

Soit  $f$  une fonction dont on donne le tableau de variation ci-dessous.

$x$	-4	1	5
$f(x)$	0	-2	3

Arrows in the original image indicate: 0 → -2, -2 → 3.

- a) Comparer les nombres  $f(2)$  et  $f(4)$ .
- b) Même question avec  $f(-3)$  et  $f(-2)$ .
- c) Peut-on comparer, avec les informations dont on dispose, les nombres  $f(-1)$  et  $f(2)$  ?

✂-----

**II – Maximum, minimum d'une fonction sur un intervalle**

**Définition** : Soit  $f$  une fonction définie sur un intervalle  $I$ , et  $a \in I$ .

♥♥♥  $f$  admet un maximum sur  $I$  atteint lorsque  $x = a$  si pour tout réel  $x$  appartenant à  $I$ , on a :  
 $f(x) \leq f(a)$ . ♥♥♥

Le réel  $f(a)$  est appelé le maximum de  $f$  sur l'intervalle  $I$  : il correspond à l'ordonnée du point du graphe de  $f$  situé le plus « haut possible ».

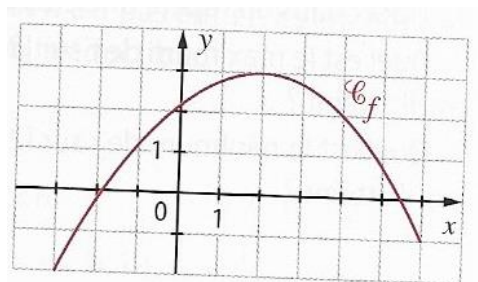


Illustration :

Exemple

Grâce à la courbe  $C_f$  ci-contre, on peut dire que :

Le maximum de  $f$  sur l'intervalle  $[-3 ; 6]$  est égal à .....  
Ce maximum est atteint lorsque  $x = \dots$



Remarque : ⚠ attention à ne pas confondre la valeur du maximum de  $f$  sur un intervalle  $I$ , et la valeur de  $x$  en lequel ce maximum est atteint. Dire que  $f$  admet un maximum n'a aucun sens si on ne précise pas sur quel intervalle. ⚠

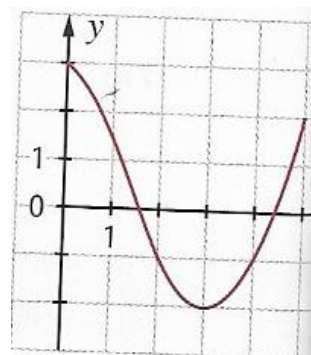
Définition

Une fonction  $f$  **admet un minimum sur un intervalle  $I$**  atteint lorsque  $x = a$ , lorsque **pour tout réel  $x$  appartenant à l'intervalle  $I$ , on a :  $f(x) \geq f(a)$** .

Le réel  $f(a)$  est appelé le minimum de  $f$  sur l'intervalle  $I$  : il correspond à l'ordonnée du point du graphe de  $f$  situé *le plus « bas possible »*.

Illustration :

Exemple : Grâce à la courbe  $C_f$  ci-contre, on peut dire que :



**Exercice 5**

a) Tracer une courbe d'une fonction  $f$  définie sur l'intervalle  $[-2 ; 4]$  et dont le maximum sur cet intervalle est atteint deux fois et le minimum est atteint une seule fois.

b) Tracer une courbe d'une fonction  $g$  définie sur l'intervalle  $[-2 ; 4]$  et dont le maximum sur cet intervalle est atteint deux fois et le minimum est atteint trois fois.

✂-----

**Remarque**

Cet exercice illustre le fait que dans la définition donnée de maximum et de minimum, il n'y a pas nécessairement unicité de l'abscisse en laquelle ce maximum est atteint.

**Définition** : On appelle **extremum** d'une fonction  $f$  sur un intervalle  $I$  tout éventuel **minimum ou maximum** de  $f$  sur  $I$ .

Par exemple, sur le graphique de la page précédente, on peut dire que  $-2$  et  $3$  sont des *extrema* de  $f$  sur l'intervalle  $[0 ; 5]$ . (*Pluriel d'extremum = extrema*).

**Exercice 6**

Soit  $f$  une fonction dont on donne le tableau de variation ci-dessous.

$x$	$-3$	$1$	$5$
$f(x)$	$-7$	$2$	$-6$

Le tableau de variation est complété par des flèches : une flèche pointe de  $-7$  vers  $2$  (entre  $x = -3$  et  $x = 1$ ), et une autre flèche pointe de  $2$  vers  $-6$  (entre  $x = 1$  et  $x = 5$ ).

Déterminer les extrema de  $f$  sur son ensemble de définition, en précisant pour quelle valeur ils sont atteints.

✂-----

**Exercice 7** *Comment prouver qu'une fonction admet un extremum sur un intervalle donné ?*

Soit  $f$  la fonction définie sur  $\mathbb{R}$  par :  $f(x) = -x^2 + 4x$ .

- 1) Vérifier que pour tout réel  $x$ ,  $f(x) = 4 - (x - 2)^2$ .
  - 2) Calculer  $f(2)$  puis démontrer que pour tout réel  $x$ , on a :  $f(x) \leq f(2)$ .
- Qu'en déduisez-vous concernant la fonction  $f$  ?

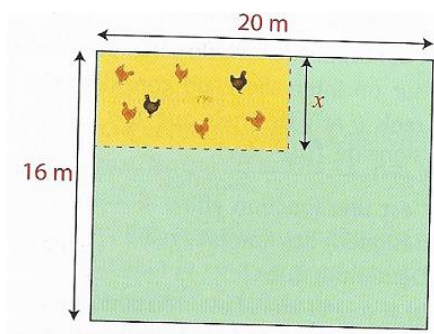
✂-----

**Exercice 8**

Ghislaine a un terrain rectangulaire délimité par 4 murs.

Elle dispose de 12 mètres de grillage pour fabriquer un enclos rectangulaire au bout de son jardin afin d'y accueillir des poules et des coqs.

Elle a dessiné un plan de son futur enclos sur lequel le grillage est représenté par des pointillés.



Ghislaine aimerait que ses volailles disposent de la plus grande surface possible pour picorer.

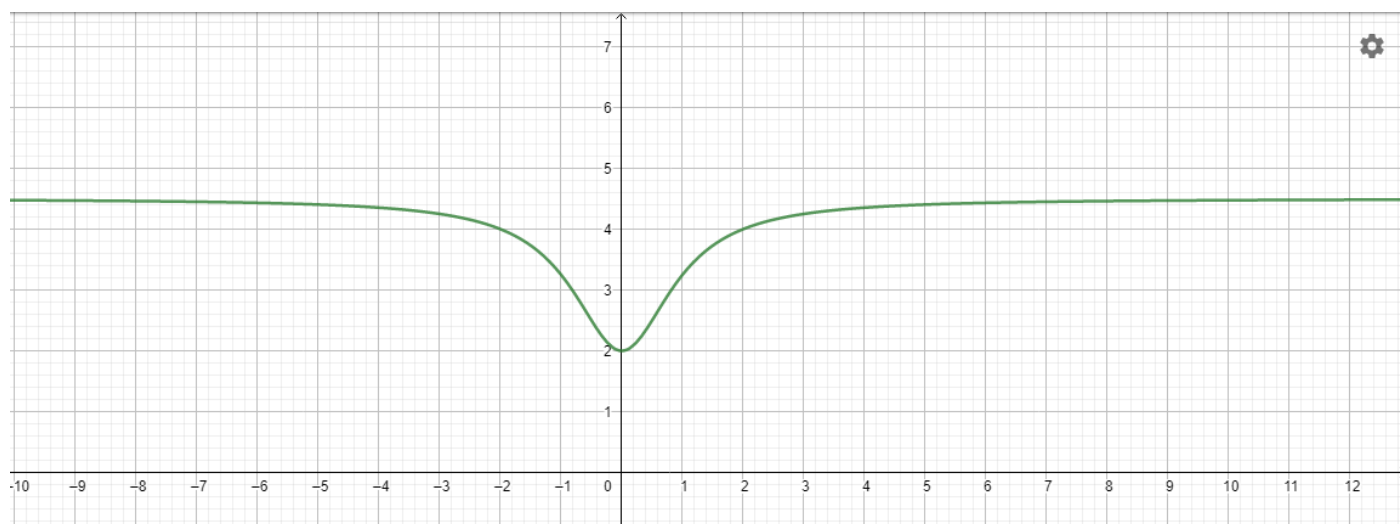
On note  $x$  la largeur exprimée en mètres de son enclos, et  $f(x)$  l'aire de l'enclos utilisant les 12 mètres de grillage.

- A quel intervalle le réel  $x$  appartient-il ?
- Exprimer  $f(x)$  en fonction de  $x$ .
- Conjecturer, à l'aide de votre tablette, le maximum de  $f$  sur  $[0 ; 12]$ , et pour quelle valeur de  $x$  il est atteint.
- Démontrer cette conjecture et donner à Ghislaine la largeur et longueur de l'enclos d'aire maximale.

✂-----

### Exercice 9

$f$  est la fonction définie sur  $\mathbb{R}$  par :  $f(x) = \frac{9x^2+4}{2(x^2+1)}$  et sa courbe représentative ci-dessous :



Démontrer que le minimum de  $f$  sur  $\mathbb{R}$  est atteint lorsque  $x = 0$ .